

# Multiplícamos con los dedos Tablas del 6 al 9


LUCÍA GARCÍA ESPAÑA



Autora : LUCÍA GARCÍA ESPAÑA

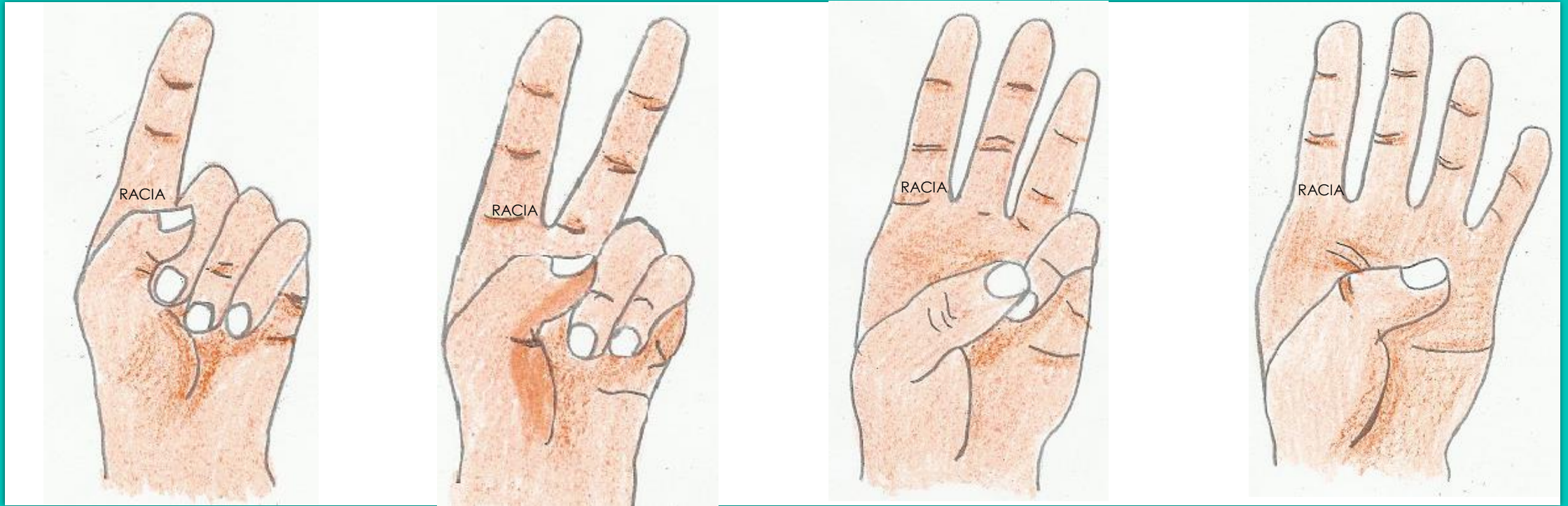


**!Repasamos el  
valor de los dedos!**





**Autora : LUCÍA GARCÍA ESPAÑA**



**6**

**7**


**8**

**9**

Autora : LUCÍA GARCÍA ESPAÑA



**¡Repasamos  
la estrategia!**





2 dedos



$2 + 4 = 6$  dedos  
arriba que son  
las decenas



4 dedos



7

X

9

=

6

—



3 dedos

RACIA

1 2 3

RACIA

1

1 dedo

**X**

$3 \times 1 = 3$   
que son las unidades

**7**

**X**

**9**



**=**

**63**

Autora : LUCÍA GARCÍA ESPAÑA



# ¿PRACTICAMOS?





## ¿Qué números representan los dedos?







6

X

8



Autora : LUCÍA GARCÍA ESPAÑA



6

X

8

=

48



## ¿Qué números representan los dedos?





**Autora : LUCÍA GARCÍA ESPAÑA**



**8**

**X**

**7**



Autora : LUCÍA GARCÍA ESPAÑA



8

X

7

=

56

Autora : LUCÍA GARCÍA ESPAÑA



## ¿Qué números representan los dedos?





7

X

7



7

X

7

=

49



Autora : LUCÍA GARCÍA ESPAÑA



## ¿Qué números representan los dedos?





**Autora : LUCÍA GARCÍA ESPAÑA**



**9**

**X**

**6**



Autora : LUCÍA GARCÍA ESPAÑA



9

X

6

=

54



## ¿Qué números representan los dedos?





6

X

6



6

X

6 = 36



Autora : LUCÍA GARCÍA ESPAÑA

# ¿Qué números representan los dedos?





**Autora : LUCÍA GARCÍA ESPAÑA**



**8**

**X**

**8**





Autora : LUCÍA GARCÍA ESPAÑA



8

X

8

=

64



Autora : LUCÍA GARCÍA ESPAÑA

# ¿Qué números representan los dedos?





7

X

9



7

X

9

=

63



## ¿Qué números representan los dedos?





6

X

9



**Autora : LUCÍA GARCÍA ESPAÑA**



**6**

**X**

**9**

**=**

**54**



## ¿Qué números representan los dedos?







7

X

8



7

X

8

=

56



Autora : LUCÍA GARCÍA ESPAÑA

## ¿Qué números representan los dedos?





**Autora : LUCÍA GARCÍA ESPAÑA**



**8**

**X**

**9**



Autora : LUCÍA GARCÍA ESPAÑA



8

X

9

=

72



## ¿Qué números representan los dedos?





7

X

6



Autora : LUCÍA GARCÍA ESPAÑA



7

X

6

=

42



Autora : LUCÍA GARCÍA ESPAÑA



## ¿Qué números representan los dedos?





Autora : LUCÍA GARCÍA ESPAÑA



9

X

9



Autora : LUCÍA GARCÍA ESPAÑA



9

X

9

=

81



Autora : LUCÍA GARCÍA ESPAÑA

## ¿Qué números representan los dedos?





Autora : LUCÍA GARCÍA ESPAÑA



8

X

6



Autora : LUCÍA GARCÍA ESPAÑA



8

X

6

=

48

Autora : LUCÍA GARCÍA ESPAÑA



## ¿Qué números representan los dedos?





Autora : LUCÍA GARCÍA ESPAÑA



9

X

7





**Autora : LUCÍA GARCÍA ESPAÑA**



**9**

**X**

**7**

**=**

**63**



## ¿Qué números representan los dedos?





6

X

7



6

X

7

=

42

Autora : LUCÍA GARCÍA ESPAÑA



## ¿Qué números representan los dedos?





Autora : LUCÍA GARCÍA ESPAÑA



9

X

8



Autora : LUCÍA GARCÍA ESPAÑA



9

X

8

=

72



**Autora : LUCÍA GARCÍA ESPAÑA**

**!Seguro que lo habéis  
hecho muy bien!**



**Pués ahora,  
!a seguir practicando !**

