


Nombre:

Ismael y Adrián están jugando a las chapas.

Ismael tiene:



Si hubiese ganado 6 chapas más tendría el mismo número de chapas que Adrián.




¿Cuántas chapas tiene Adrián?

$$\square \circ \square = \square$$

Solución:

En una bandeja hay:



Si hubiese 4 magdalenas menos habría la misma cantidad que en la cesta.



¿Cuántas magdalenas hay en la cesta?

$$\square \circ \square = \square$$

Solución:

Iníciate.

1. En la clase de 4º hay 22 alumnos. Si hubiese 6 menos habría el mismo número de alumnos que en primero. ¿Cuántos alumnos hay en primero?

22 alumnos de 4º



Si hubiese 6 menos habría tantos como en primero

Opera y resuelve: $\square \circ \square = \square$

2. En una jardinera hay 25 rosas. Si hubiese 12 rosas más habría la misma cantidad que hay de margaritas. ¿Cuántas margaritas hay en la jardinera?

25 rosas



Si hubiese 12 rosas más habría el mismo número que hay de margaritas.

Opera y resuelve: $\square \circ \square = \square$

Avanza un paso más.

3. Iván ha ahorrado 45,76 € en el último mes. Si hubiese ahorrado 89,76€ más habría ahorrado tanto como Sofía. ¿Cuánto dinero ha ahorrado Sofía?



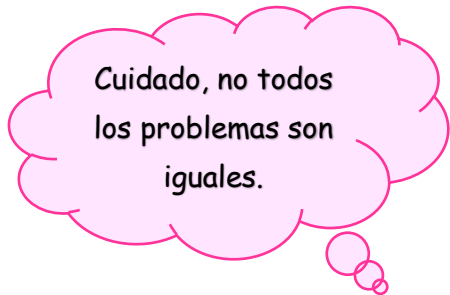
Solución:

4. El mago Salfumán tiene 4 250 seguidores en redes sociales y la Bruja Avería tiene 3 500. ¿Cuántos seguidores tendría que conseguir la bruja Avería para tener la misma cantidad de seguidores que Salfumán?



Realiza los cálculos y rodea la respuesta correcta.

- a) 750 seguidores
- b) 7 750 seguidores
- c) 1 750 seguidores



5. Una pista de atletismo mide 400 metros. Si midiese 13,6 decámetros menos mediría lo mismo que un campo de fútbol. ¿Cuántos metros mide un campo de fútbol?

13,6 dam = m



Solución:

Inventa, crea y razona.

6. Inventa un problema similar al anterior a partir de la pregunta siguiente:

¿Cuántos cromos tiene Hugo?
