

Nombre: _____

JULIO 2020

1º PRIMARIA

LUNES

MARTES

MIÉRCOLES

JUEVES


VIERNES

SÁBADO

DOMINGO

1 ¿Qué número se forma?
7D 62U

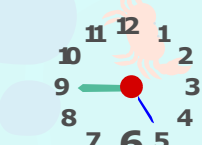
2 ¿Cuál es son sus amigos del 100?
35 29

3 Día Intr. libre bolsas de plástico
Suma 6D y 14U
45 

4 Escribe el doble y la mitad
28

5 Escribe en número su anterior y su posterior
56 67


6 Inventa un problema de restar en el que sea el minuendo.
36

7 ¿Qué hora es?


8 Inventa un problema de sumar y otro de restar con estos datos
18 31 45

9 Iguala estas cantidades
67 21

10 Si tengo ahorrado 2,15 €
¿Cuánto me falta para...?
10 €

11 Día mundial de la población
Suma
56 y 19 

12 Continúa la serie:
44, 41, 38, ... 8

13 Día mundial del rock
Calcula el resultado
9D - 35U


14 A qué número llegan si patimos del 45
OOOOO|

15 Un chicle cuesta 7 céntimos.
¿Cuánto cuestan 2?
¿y 4? ¿y 8?


16 Añade 4 decenas y 40 unidades
25

17 Si tienes estas decenas y quitas 38 unidades.
¿Cuánto quedará?
4

18 Día internacional de Nelson Mandela
¿Cuál es su doble?
 48

19 ¿Qué día del mes será dentro de una semana?

20 Escribe el minuendo y el sustraendo para que sea la solución.
23


21 Día mundial del perro
¿Cuántas decenas hay?
 37

22 Descompón de 4 formas distintas.
96

23 Indica el número de unidades y cifra de las unidades
21

24 Escribe 2 números pares mayores y menores.
25

25 Inventa un problema de sumar en el que sea un sumando
47


26 Día de los abuelos
¿Cuál es su mitad?
 62

27 ¿Qué meses van antes y después de Julio?

28 Escribe la decena anterior y posterior
54

29 Escribe el ordinal de estos números.
5º 8º 1º

30 Dibuja un cuadrado y un rectángulo. Explica en qué se diferencian

31 ¿Qué tipo de monedas y billetes hay en esta cantidad?
37,84 



actiludis.com



Imagen con licencia designed by freepik.com

