

Nombre: _____

JULIO 2020

2º PRIMARIA

MIÉRCOLES

JUEVES

VIERNES

SÁBADO

DOMINGO

LUNES

MARTES

1 Suma 6D y 26U

214


2 ¿Cuál es son sus amigos del 100?

25 27

3 Día Intr. libre bolsas de plástico

¿Cuál es su doble?

48



4

346



Descompón de 4 formas distintas.

5 Calcula el resultado

10D - 65U

6 Indica el número de unidades y cifra de las unidades

895

7 Escribe la Cecena anterior y posterior

781

8 A qué número llegamos si patimos del

312

○ ⊖ ⊖ ⊖ ○

9 ¿Qué número se forma?

4D 37U


10 Inventa un problema de restar en el que sea e minuendo.

76

11 Día mundial de la población

Escribe el doble y la mitad

12




12 Inventa un problema de sumar y otro de restar con estos datos

19 11 5

13 Día mundial del rock

Suma 47 y 243

135



14 Escribe el minuendo y el sustraendo para que sea la solución.

21

15 Escribe 2 números pares mayores y menores.

838

16 Inventa un problema de sumar en el que sea un sumando

98

17 Escribe el ordinal de estos números.

13° 15° 18°

18 Día internacional de Nelson Mandela

¿Cuál es su mitad?

54



19 Inventa un problema de restar en el que sea el resultado

57

20 Una gominola cuesta 6 céntimos. ¿Cuánto cuestan 2? ¿Y 4? ¿Y 8?

21 Día mundial del perro

¿Cuántas decenas hay?

999



22 Escribe en número su anterior y su posterior

809

23 Si tienes estas centenas y quitas 8 decenas. ¿Cuánto quedará?

1 C

24 Si tengo ahorrado 25,75 € ¿Cuánto me falta para...?


30 €

25 Continúa la serie:

38, 35, 32, ... 2

26 Día de los abuelos

Dibuja un triángulo y explica cómo es.



27 ¿Qué tipo y cuántas monedas de céntimos hay en esta cantidad?

68,35 €

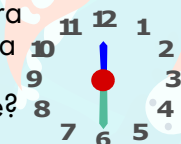
28 Añade 5 centenas y 12 decenas

28

29 ¿Qué meses van antes y después de julio?

30 Dibuja un círculo e indica todo lo que sepas de él.

31 ¿Qué hora será una hora y media más tarde?



actiludis.com

