

# ¡EL PESO!



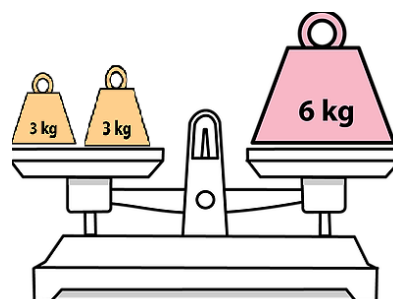
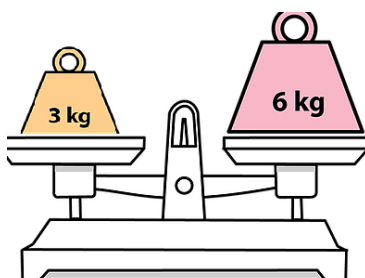
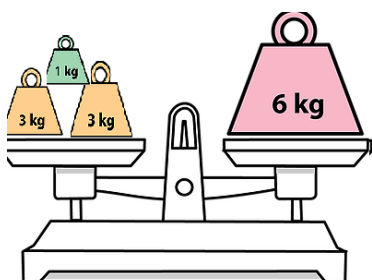
## Actividad.

Observa los siguientes dibujos y señala la cantidad y responde.

1. ¿Cuánto pesa?



2. ¿Qué lado queda arriba de la balanza? Rodea.



3. Responde

En un kilo hay dos ..... kilos.

En un kilo hay cuatro ..... de kilo.

Cuatro cuartos de kilo son ..... kilo.

Dos cuartos de kilo son ..... kilo.