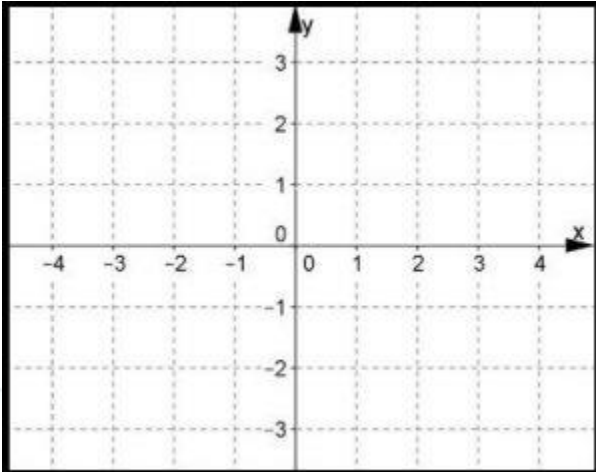
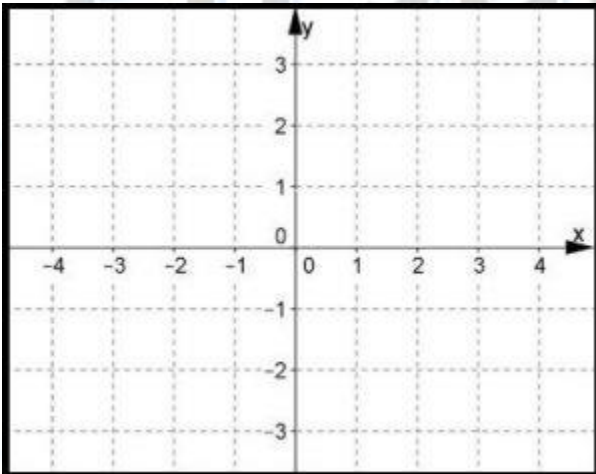


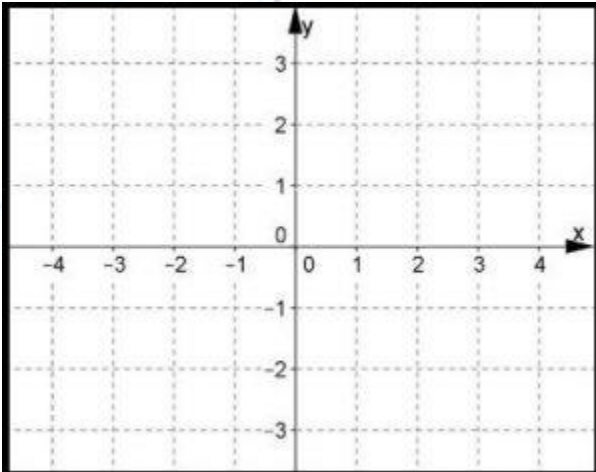
BATALLA NAVAL-Que la suerte este contigo
Ubica 5 barcos en coordenadas enteras y no las digas.



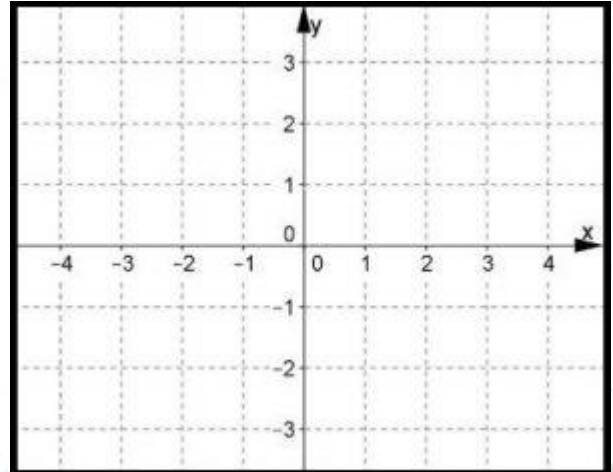
BATALLA NAVAL-Que la suerte este contigo
Ubica 5 barcos en coordenadas enteras y no las digas.



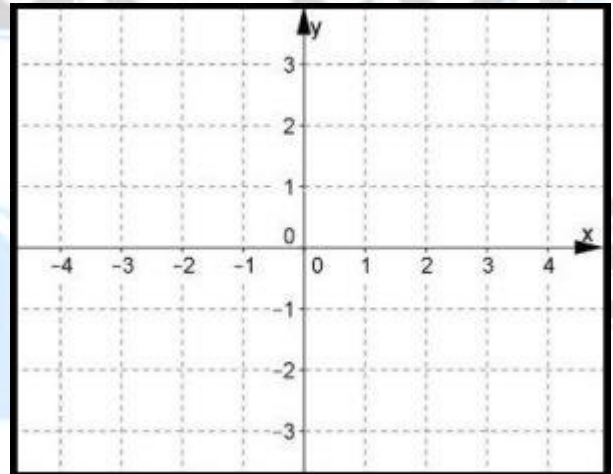
BATALLA NAVAL-Que la suerte este contigo
Ubica 5 barcos en coordenadas enteras y no las digas.



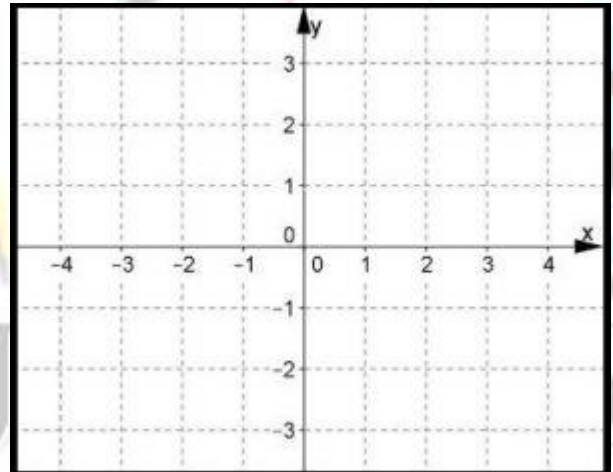
BATALLA NAVAL-Que la suerte este contigo
Ubica 5 barcos en coordenadas enteras y no las digas.



BATALLA NAVAL-Que la suerte este contigo
Ubica 5 barcos en coordenadas enteras y no las digas.



BATALLA NAVAL-Que la suerte este contigo
Ubica 5 barcos en coordenadas enteras y no las digas.



$(-4,3)$	$(-4,2)$	$(-4,1)$	$(-4,0)$
$(-4,-1)$	$(-4,-2)$	$(-4,-3)$	
$(-3,3)$	$(-3,2)$	$(-3,1)$	$(-3,0)$
$(-3,-1)$	$(-3,-2)$	$(-3,-3)$	
$(-2,3)$	$(-2,2)$	$(-2,1)$	$(-2,0)$
$(-2,-1)$	$(-2,-2)$	$(-2,-3)$	
$(-1,3)$	$(-1,2)$	$(-1,1)$	$(-1,0)$

$(-1,-1)$	$(-1,-2)$	$(-1,-3)$	
$(0,3)$	$(0,2)$	$(0,1)$	$(0,0)$
$(0,-1)$	$(0,-2)$	$(0,-3)$	
$(1,3)$	$(1,2)$	$(1,1)$	$(1,0)$
$(1,-1)$	$(1,-2)$	$(1,-3)$	
$(2,3)$	$(2,2)$	$(2,1)$	$(2,0)$
$(2,-1)$	$(2,-2)$	$(2,-3)$	
$(3,3)$	$(3,2)$	$(3,1)$	$(3,0)$

(3,-1)	(3,-2)	(3,-3)	
(4,3)	(4,2)	(4,1)	(4,0)
(4,-1)	(4,-2)	(4,-3)	

los Números

MATEMÁTICAS 5
Y AJEDREZ

BATALLA NAVAL-LOTERÍA COORDENADAS

Tema: coordenadas, ubicación de puntos.

- La actividad está diseñada lista para imprimir y aplicar. Se le da al alumno un plano y se le pide que ubique 5 barcos en las coordenadas que él quiera, eso es lo divertido, todos son diferentes.
- Una vez ya cortadas las fichas, se comienzan a decir en voz alta, una tras otra, como lotería, que representarán las bombas. Los alumnos deben estar ubicando cada una en su plano y tachar los barcos caídos.
- Sugerencia: En un plano limpio ir ubicando con plumón las coordenadas mencionadas de tal manera que te sirve para revisar y calificar la actividad, más fácil y rápido

