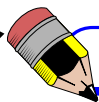


INTERVALOS

Centenas



Nombre: _____



Fecha: _____

EJEMPLO

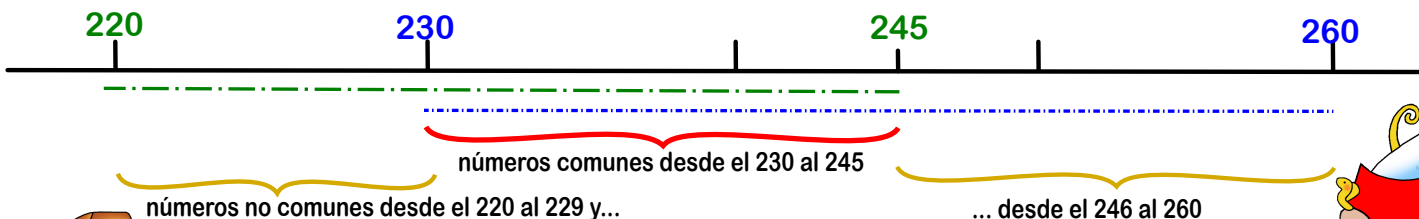
Si tenemos los números que van desde el 220 al 245 y desde el 230 al 260.

-¿Qué números tienen en común ambos intervalos?

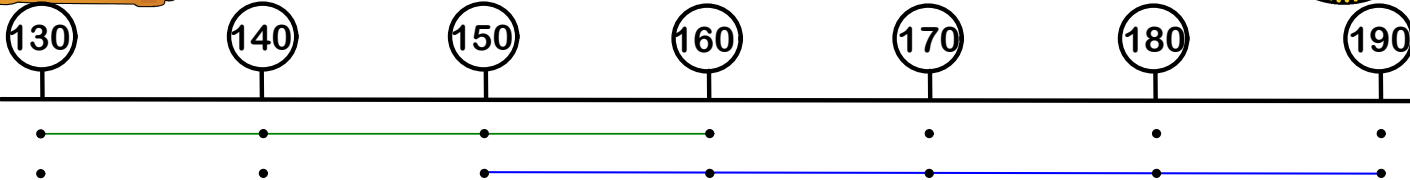
-¿Qué números no tienen en común ambos intervalos?

- 1.- Situa los números en la recta numérica.
- 2.- Pinta cada intervalo de un color distinto.

- 3.- Donde coinciden las líneas son los números comunes.
- 4.- Donde no coinciden son los no comunes



Intervalos desde el 130 al 160 y desde el 150 al 190.

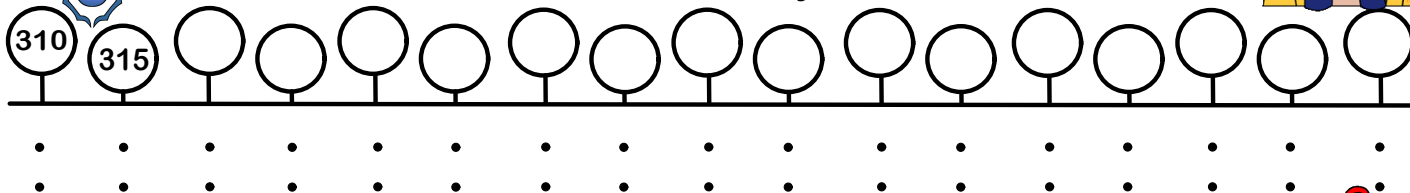


- Los números comunes van desde el hasta el

- Los números que NO COMUNES son del al y desde al al




Intervalos desde el 310 al 365 y desde el 340 al 390.

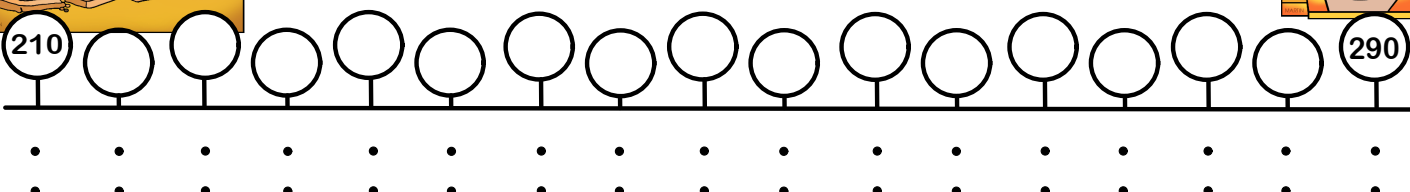


- Los números comunes van desde el hasta el

- Los números que NO COMUNES son del al y desde al al



Intervalos desde el 215 al 255 y desde el 235 al 285.



- Los números comunes van desde el hasta el

- Los números que NO COMUNES son del al y desde al al