



FRACCIONES MAYORES A 1 EN LA RECTA NUMÉRICA



Nombre: _____

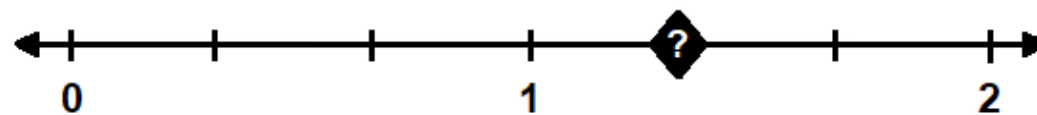
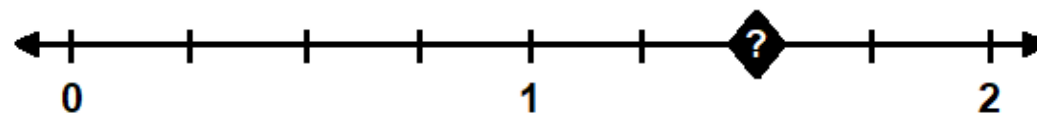
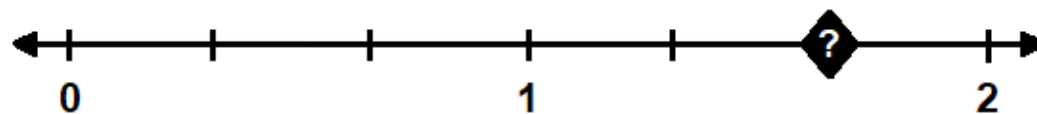
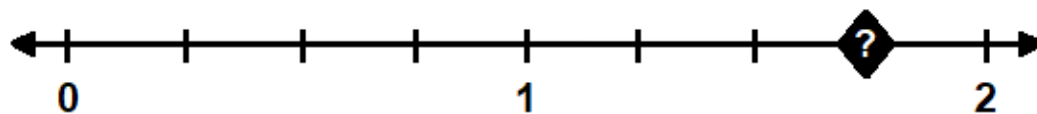
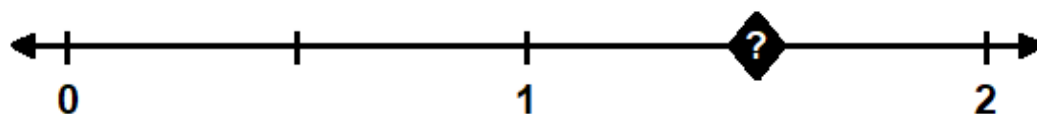
Fecha: _____



Instrucciones: Fijar en la recta numérica. Encuentra las tarjetas correctas que representan el número trazado en la recta numérica. Corta y pega la tarjeta bajo el encabezado correcto.

FRACCIÓN

NÚMERO MIXTO



CORTAR Y PEGAR

$\frac{4}{3}$	$1\frac{3}{4}$
$\frac{3}{2}$	$1\frac{2}{4}$
$1\frac{1}{3}$	$\frac{7}{4}$
$\frac{6}{4}$	$1\frac{2}{3}$
$1\frac{1}{2}$	$\frac{5}{3}$



para estar al día de novedades gratuitas y originales.
gratuitas y originales.