

MARZO 2023

NOMBRE: _____

4º PRIMARIA

MIÉRCOLES

JUEVES

VIERNES

SÁBADO

DOMINGO

LUNES

MARTES


1 Suma los pares y resta el número impar

241 358

570

2 Indica el número de decenas y la cifra de las decenas

7865

3  Día mundial de la naturaleza
¿Cuál es su mitad?

582

4 Redondea 7 893 a tres números en:

UM - C
D

5 Ordena de > a >

$\frac{1}{4}$ $\frac{3}{4}$ $\frac{2}{4}$

6 Iguala estas cantidades e indica cuanto da el mayor al menor

88 y 124

7 A qué número llegamos si patimos del...

1234

|—○|△△△

8  Día Internacional de la mujer
¿Cuál es su amigo del 1000?

333

9 Inventa un problema de restar en el que sea el sustraendo sea

72

10 Quita 2C 54D y 100U

4000

11  Día víctimas del terrorismo
Añade 33C y 3D

777


12 ¿Cuál es el número?

8UM
12C
699U

13 Redondea los números a las decenas y a las centenas más próxima

573 1289

14 Esta mañana coseché 247 kg de trigo y por la tarde 53000 gr más.
¿Cuántos kg he recolectado hoy?

15  Día Derchos del consumidor
¿Cuántos litros son 3,5 L y 500 cl?


16  Haz la casita con 4 descomposiciones

17 ¿Cual es el triple y el cuádruple de este número?

24

18 Escribe un número que tenga más decenas que este

160

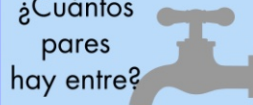
19  Día del Padre
¿Cual es la 1/4 parte de esta cantidad?

12

20 Dibuja y nombra cinco figuras geométricas diferentes.

21  Día del Síndrome de Dawn
Resta mentalmente

2458 - 1298

22  Día Mundial del Agua
¿Cuántos pares hay entre?

2255 y 2266

23 Escribe tres números que esten entre estos

9,99 y 9,09

24 A qué número llegamos si patimos del...

2222

|○|||△|⊖

25  Día contra la trata de seres humanos
Doble de

753

26  Día del Teatro
Suma mentalmente

22.8 + 68.4

27 ¿Qué hora es?



28 Calcula estos productos

3D x 6
3C x 6
3D x 6D

29 Escribe tres números más pequeños que no sean inferiores a

99D

999

30 Calcula estos productos

8 x 4
80 x 4
80 x 40

31 Si sumamos el doble y restamos la mitad ¿Cuál es el resultado?

2222