

















¿JUNTOS O SEPARADOS?

Para que comprendas la densidad de población haz lo siguiente, imagina que cada cuadrícula es el territorio de un país y está dividido en estados o municipio, cada cuadro representa un kilómetro cuadrado, recorta y pega en la primera y segunda cuadrícula los niños y niñas que habitan por cada kilómetro cuadrado, en la primera cuadrícula pega los niños de la derecha, uno en cada cuadro, la segunda pega dos o hasta tres en cada cuadro.

La densidad de población describe el número de personas que ocupa una área en relación con el tamaño de esa área.



