

## LUNES

## MARTES

## MIERCOLES

## JUEVES

## VIERNES

## SABADO

## DOMINGO

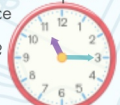
1 ¿Cuál es su amigo del 10000?

10000

815




2 ¿Cuánto falta para las doce menos cuarto?



3 Día mundial de la libertad de prensa

Escribe una centena anterior y posterior

348



4



Pagas 64,82

¿Cuánto te devuelven?

5 A qué número llegamos si partimos del 437

△ | △ | ○ | △ | △

6 ¿Qué número es el formado por...?

2C 14D 216U

7 Día de la Madre


Si quitamos 23 D. ¿Qué número tendremos?

4C 5D 2U

8 Iguala ambas cantidades

436

634



9 Día de Europa

Si le restas la mitad ¿Cuánto quedará?

826



10 ¿Qué saldrá si multiplicas por 4º y por 40 y 400?

32

11 Inventa dos parejas de amigos del mil que acaben en 5

12 Escribe un problema de restar donde el minuendo y sea...

276

13 Escribe en número y letra cuatro números que puedas formar con:

8 0 7

14 Escribe un número cuyas decenas sea mayor y la cifra de las unidades menor.

292

15\* Día Internacional de la familia

¿Cuál es su mitad? ¿y su doble?

150

462



16 Inventa un problema de esta suma y obtén dos restas de ella.

78 + 36 = 114

17 Día de Internet

¿Cuánto falta para tener 10 euros?

4,35



18 Dibuja en tu cuaderno un triángulo verde y dos cuadriláteros, uno rojo y otro azul.

19 Si fuera dinero. ¿cuál sería la cantidad menor de billetes y monedas necesarios?

639€

20 Descompón de 4 formas distintas.

500



21 Día Mundial de la Diversidad Cultural

Suma 213 y resta 325 a

212



22 Día Internacional biodiversidad biológica

¿Cuáles son sus triples?

232 333



23 Un gallo empezó a cantar a las 6:55 de la mañana y se calló a las 7:38. ¿Cuánto estuvo cantando?

24 A qué número llegamos si partimos del 899

△ | △ | ○ | ○ | △

25 Día Internacional

¿Cuánto medirán tres cuerdas de dos metros y medio



26 Dibuja 3 rectángulos y partelos en


$\frac{1}{2}$   $\frac{1}{3}$   $\frac{1}{4}$

27 Escribe en tu cuaderno dos objetos con forma de círculo y dos con forma de circunferencia.

28 Día Mundial de la nutrición

¿Cuánto darás para tener igual?

2.28€ 8.24€



29 Día Mundial sin tabaco

¿Cuántos cuartos de kg hay en 2000 g?



30 ¿Por cuánto debemos multiplicar 3 para tener el?

639

31 ¿Cuánto dinero son 10 monedas de 10 cts. ¿y 100 monedas? ¿y 50 monedas?

actiludis.com

cabn