

JUNIO 2023

5º PRIMARIA

LUNES

MARTES

MIERCOLES


JUEVES

VIERNES

SABADO

DOMINGO

5 Día mundial del medio ambiente
Calcula mentalmente
 3.14×3



6 Día mundial de los transplantados
Escribe en números romanos
4353



7 Escribe una fracción equivalente mayor y otra menor.
 $\frac{8}{10}$

8 Día Mundial de los océanos
Calcula
 $8 - \frac{1}{4}$




9 Completa para que sean equivalentes
 $\frac{5}{?} = \frac{25}{20}$
¿?

10 Expresa de forma incompleta la siguiente cantidad sexagesimal
 $2^\circ 5' 30''$

11 Haz la casita con 4 descomposiciones
20,07



12 Día mundial contra el trabajo infantil
¿Cuál es su raíz cuadrada?
6.25




13 Desde 9 milésimas ¿Cuánto falta para llegar a...?
9 décimas

14 Día mundial del donante de sangre
Calcula mentalmente
4.52




15 Día Mundial abuso y maltrato en la vejez
¿Cuántos cm^2 hay en?
 1m^2 y 22dm^2



16 Escribe cómo se lee y redonde a las centésimas.
0.328

17 Día mundial contra la desertización y la sequía
Escribe 4 números entre estos dos
0.01 y 0.02



18 Con la ayuda de la tabla calcula el 42% de
248

19 Atrasa 1 hora y 10 minutos
09:23



20 Día mundial del refugiado
¿Cuál es su mitad?
19.7 c



21 Día europeo de la música
¿Cuántos grados son?
 $58' 120''$



22 ¿Cuánto mide el ángulo suplementario a éste?
 111°

23 ¿Cuánto mide el ángulo complementario a éste?
 17°

24 ¿Qué número es?
 $0.7d$ $36c$ $4m$


25 Día de la gente del mar
¿Cuál es el 21%?
528



26 Si el precio incluye el 21% de IVA ¿Cuánto es el IVA?
846€

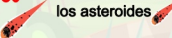
27 ¿Cuál será el resultado si multiplicas por: 0.3, 0.03 y 0.003
6

28 Día mundial del árbol
Calcula la suma y simplifica
 $\frac{3}{4} + \frac{4}{6}$



29 Suma mentalmente
7.43 3.17
1.65

30 Día internacional de los asteroides
Resta 2.8 y 5.7
8.58



actiludis.com

abn

www.PenyagolosaedUCA.com

Para usar el calendario matemático con Scratch.