

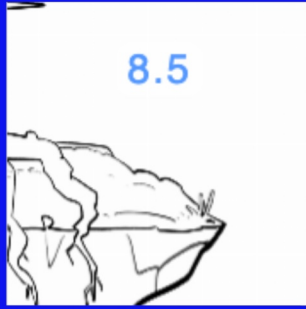


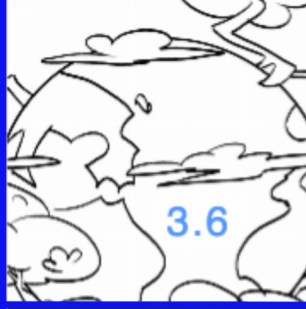

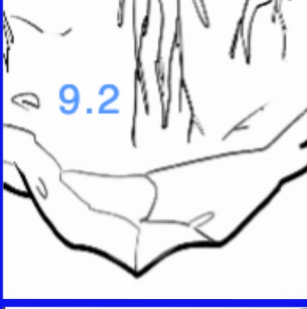


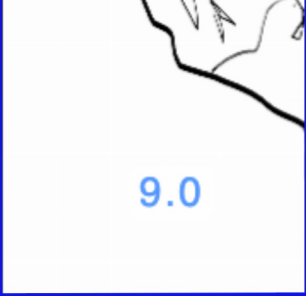
Nombre: _____

Fecha: _____

SUMAS Y RESTAS CON DÉCIMAS

$2.3+4.3$	$6.5-1.1$	$3.6+8.9$
$7.8-4.3$	$2.5+1.1$	$8.4-6.9$
$4.3+4.3$	$7.5-1.8$	$3.6+4.9$
$8.3+6.9$	$1.5+7.7$	$9.1+4.6$

Resuelve las siguientes operaciones mentalmente o usando las rejillas. Pega pieza cuyo resultado corresponda. Si no encuentras el resultado es que te has equivocado y debes volver a intentarlo.

 8.5	 1.5	 13.7
 3.6	DÍA 6.6	 5.7
RBOL 12.5	 9.2	DEL ÁR 28 de Junio 5.4
 3.5	 8.6	 9.0

Generado con la ayuda de <https://www.olesur.com/educacion>

