

Nombre: _____

2º PRIMARIA

OCTUBRE 2023

DOMINGO

1 Día Internacional de las personas de la Tercera Edad
¿Qué número es?



8 Indica la decena anterior y posterior
47

LUNES

MARTES

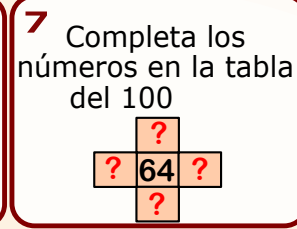
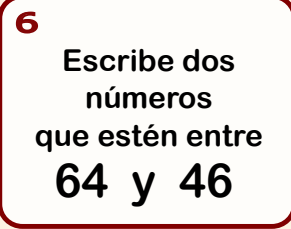
MIÉRCOLES

JUEVES

VIERNES

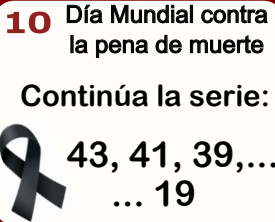
SÁBADO

2 Día Mundial del hábitat
¿Cuál es el amigo del 100 en...?

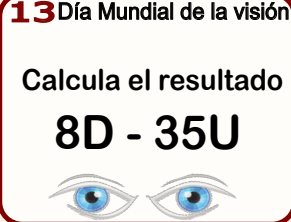
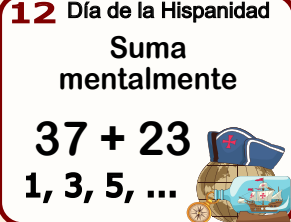


9
¿Cuántas decenas hay? ¿Y unidades?

86



11
Si tienes 3 D y añades 45 U.
¿Cuánto habrá?

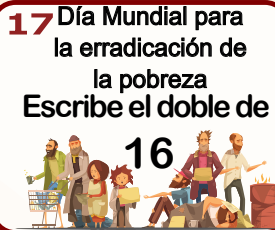
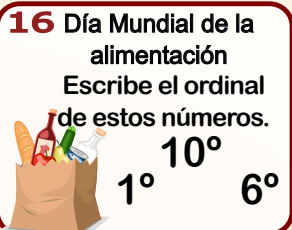


14
Escribe cuatro números pares mayores y menores a:

75

15
Inventa un problema de sumar en el que sea el resultado

28



18
Inventa un problema de sumar y otro de restar con estos datos

20 50 30

19
Si tengo ahorrado 4,60 €
¿Cuánto me falta para tener 10€?

20
Dibuja un círculo y cuenta todo lo que sepas de él.

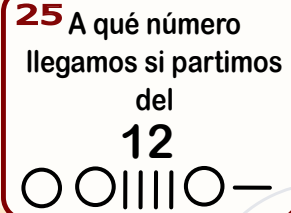
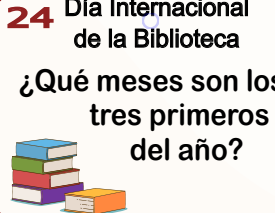
21
Indica dos cosas que midan más de 2 metros y otras dos de menos de 2 metros

22 Escribe el minuendo y el sustraendo para que sea la solución.

4

23
Si tienes estas centenas ¿y quitas 80 Unidades.
¿Cuánto quedará?

1 C

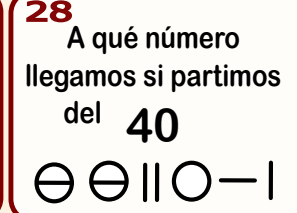


26
¿De qué tipo y cuántas monedas de céntimos hay en esta cantidad?

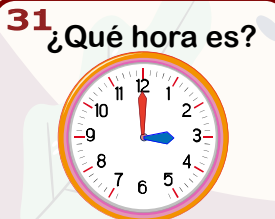
70,51 €

27
Iguala estas cantidades

45 y 59



29
Un lápiz cuesta 20 céntimos.
¿Cuánto cuestan 2?
¿y 4? ¿y 8?



actiludis.com

www.Pensagolosaeduca.com

Calendario matemático con Scratch.

Este material puede compartirlo en redes sociales, blog y web enlazando al sitio original en actiludis.com. Queda prohibido descargar para compartir desde un blog, web o sitio en la red, externo al original.



Me gusta actiludis

Para novedades originales y gratuitas.

Con licencia
designed by freepik.com

