

# ENERO 1º Primaria



Nombre: \_\_\_\_\_

LUNES

MARTES



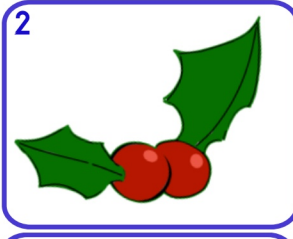
MÉRCOLES

JUEVES

VIERNES

SÁBADO

DOMINGO



8 ¿Qué número es  
4 D y 8 U

9 Añade 2 D y 4 U  
15

10 Escribe en letra el  
números anterior  
y posterior al...  
49

11 A qué número  
llegamos desde el...  
14  
| — | | |

12 Del 0 al 10 ¿Qué  
números no están  
entre:  
5 y 8

13 Escribe el doble  
de estos números  
6 4 3

14 Escribe el ordinal  
de estos números.  
1º 2º 3º

15

¿Cuánto dinero  
hay?

16 ¿Cuántas decenas  
hay?  
¿Qué número es?  
+ + + +

17 Si tienes estas decenas  
y quitas 6 unidades.  
¿Cuánto quedará?  
+ +

18 Indica el número  
de unidades y la  
cifra de las unidades  
15

19 ¿Qué números es?  
+ + + + - +

20 **58**  
Descompón de 4  
formas distintas.

21 Escribe los números que  
están entre estos dos  
14 18

22 Cuenta de 2 en  
del 11 al 25

23 **Día Internacional  
de la educación**  
¿Cuál es su amigo  
del 10?  
6 7

24 A qué número llegamos  
si partimos del...  
35  
— — |||| — ○

25 Escribe la decena  
anterior y posterior  
34

26 **Día víctimas  
del holocausto**  
¿Cómo se  
llama esta  
figura? ●

27 ¿Cuántas decenas  
hay aquí?  
20 + 10 + 20

28 ¿Qué  
número falta?  
— + 5 = 8

29 Escribe un número  
cuya cifra de las  
decenas sea mayor  
y las unidades menor  
72

30 **Día Escolar de  
la Paz y NO Violencia**  
Cuenta de 2 en 2  
hasta el cero  
16

31 Si pagas 3 euros  
¿cuánto te devuelven?  
10 EURO

