

ENERO 5° Primaria



Nombre: _____

LUNES

MARTES





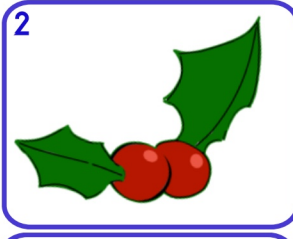
MÉRCOLES

JUEVES

VIERNES

SÁBADO

DOMINGO



8 Si a 5U le quitas 4,5U 5d ¿Cuánto queda?

9 Escribe 4 números entre estos dos.
0,76 0,75

10 Descompón para que tengas decenas y unidades.
0,45

11 Inventa un problema de dividir en el que sea el dividendo
0,15

12 ¿Cuál mentalmente?
 $23,42 + 18,58$

13 Iguala estas cantidades e indica cuanto da el mayor al menor
0,08 2,34

14 Expresa como fracción la parte roja y la blanca.

15 De 0,25 ¿Cuánto falta para llegar al número?
1,70

16 Redondea los números a las decenas y a las centenas más próxima
951

17 ¿Qué número es?
32 CM 23 DM 56 UM

18 He cortado siete lazos de esta longitud. ¿Cuánto medía el trozo original?
0,25 m

19 Inventa una serie de 10 números que de una a otra vaya esta cantidad
0,6

20
Descompón de 4 formas distintas

21 ¿Que número falta para que sean equivalentes?
 $\frac{4}{6}$ $\frac{8}{?}$

22 Redondea 7 634 a tres números en:
UM - C D

23 **Día Internacional de la educación**
Multiplica mentalmente por 3
3,6

24 ¿Cuánto falta para llegar a 45 DM?
405 000

25 A qué número llegamos si patimos del...
700
 $1\ominus - \Delta 1\ominus$

26 **Día víctimas del holocausto**
Calcula mentalmente
 $0,98 \times 3$

27 ¿Cuál es su mitad?
0,576
¿Cuál es su doble?
0,57

28 Calcula mentalmente
 $7,5 + 5 - 2,5$

29 ¿Qué números es?
MCDXLV

30 **Día Escolar de la Paz y NO Violencia**
¿Cuántos cuartos de kg hay?
1,75 Kg

31 Pedro tiene 68,35 kg de harina y lo quiere vender en paquetes de 0,5 kg. ¿Cuántos paquetes hará?

