

ENERO 2º Primaria



Nombre: _____

LUNES

MARTES




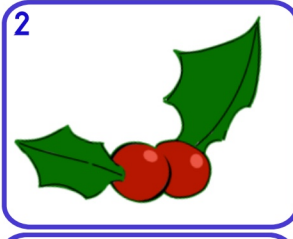
MÉRCOLES

JUEVES

VIERNES

SÁBADO

DOMINGO



8 A qué número llegamos si partimos del...
116
— 0 | Δ — 0

9 Si tengo el doble. ¿Cuánto dinero hay?

10 Si la película empezó a esa hora y han pasado 40 minutos. ¿Qué hora es?
16 : 35

11 Iguale estas cantidades y di cuanta al el mayor
33 51

12 Inventa un problema de multiplicar por este número.
3

13 Inventa y resuelve un problema de sumar con estas cantidades
275 66

14 Inventa y resuelve un problema de con estas cantidades
404 75

15 Suma las cantidades pares y resta la impar
34 28 27

16 Resta las cantidades pares y suma la impar
62 35 24

17 Escribe el ordinal de esto números.
9º 7º 5º

18 Escribe la centena anterior y posterior
609

19 Escribe en número y letra todos los números de 3 cifras.
4 2 8

20 Escribe tres números más pequeños que no sean inferiores a 25D
273

21 Escribe un número cuya cifra de las decenas sea mayor y las unidades menor
181

22 Inventa un problema de restar en el que sea la solución.
41

23 **Día Internacional de la educación**
¿Cuál es su amigo del 1000?

700

24 Añade 3C 1D y 11U
342

25
Descompón de 4 formas distintas.

26 **Día víctimas del holocausto**

¿Cuál es su doble?
308

27 ¿Cuál es su amigo del 100?
45 75

28 A qué número llegamos si partimos del...
231
— | Δ | 0 | Δ

29 Escribe los números que están entre estas dos cantidades
309 298

30 **Día Escolar de la Paz y NO Violencia**
¿Cuál es su mitad?

504

31 ¿Qué hora es?

11 12 1 2 3 4 5 6 7 8 9 10

