

ENERO 4º Primaria



Nombre: _____

LUNES

MARTES

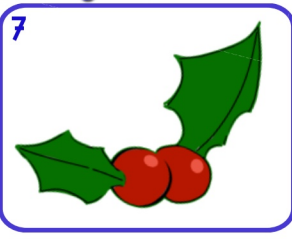
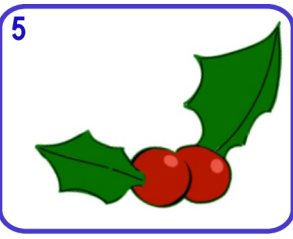
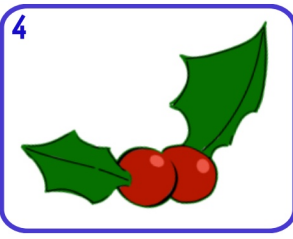
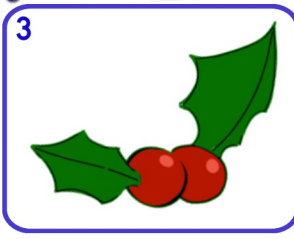
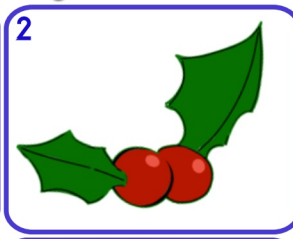
MÉRCOLES

JUEVES

VIERNES

SÁBADO

DOMINGO



8 A qué número llegamos si patimos del...
300
—○△|○△|

9 Quita
3C 32D y 300U
2 346

10 ¿Cuántos litros son
1,5 L y 500 cl?

11 ¿Cuál es su mitad?
546
¿Cuál es su doble?
537

12 Suma mentalmente
273 + 397

13 Indica el número de decenas y la cifra de las decenas
3468

14 Añade
25C y 12D
A...
673

15 Suma los pares y resta número impar
242 237
156

16 Ordena de > a <
 $\frac{4}{6}$ $\frac{8}{6}$ $\frac{2}{6}$

17 Esta mañana corrí 4 km y por la tarde 4500 m
¿Cuántos km he corrido en todo el día?

18 Escribe en número y letra cinco números de 5 cifras con...
5 2 4 3
0

19 Redondea los números a las decenas y a las centenas más próxima
348 951



21 Redondea 7 634 a tres números en:
UM - C
D

22 ¿Cuál es el triple y el cudruple de este número?
26

23 **Día Internacional de la educación**
¿Cuál es su amigo del 1000?
 376

24 Escribe como se lee este número si se trata de dinero?
5,32 €

25 A qué número llegamos si patimos del...
700
| ⊖ — △ | ⊖

26 **Día víctimas del holocausto**
 Resta mentalmente
457 - 298

27 Escribe tres números más pequeños que no sean inferiores a 39D
300

28 Calcula estos productos
7 x 8
70 x 8
70 x 80

29 Calcula estos productos
6D x 4
6C x 4
6D x 4D

30 **Día Escolar de la Paz y NO Violencia**
¿Cuál es la 1/4 parte de esta cantidad?
 24

