

# ENERO 3º Primaria



Nombre: \_\_\_\_\_

**LUNES**

**MARTES**


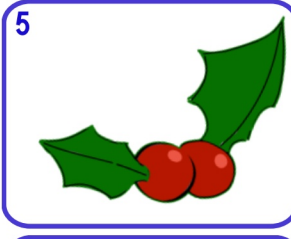


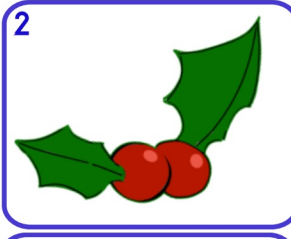
**MÉRCOLES**

**JUEVES**

**VIERNES**

**SÁBADO**

**DOMINGO**



8 Indica el número de decenas y la cifra de las decenas  
853

9 ¿Cuál es su doble?  
628  
¿Cuál es su mitad?  
546

10 ¿Cuál es su amigo del 1000?  
689

11 Calcula mentalmente  
 $9 \times 7$   
 $90 \times 7$   
 $90 \times 70$

12 Escribe la UM anterior y posterior  
4807

13 Suma los pares y resta número impar  
483 236  
855

14 A qué número llegamos si patimos del...  
560  
| Δ O | Δ O —

15 Esta mañana corrí 6 km y por la tarde 2300m  
¿Cuántos km he corrido en todo el día?

16 Inventa un problema de restar en el que sea el sustraendo sea  
88

17 Redondea los números a las decenas y a las centenas más próxima  
708 882

18   
Haz la casita con 4 descomposiciones

19 Añade  
4C 23D y 200U  
203

20 ¿Cual es el triple y el cudruple de este número?  
44

21 Escribe como se lee este número si se trata de dinero?  
7,46 €

22 Escribe tres números más pequeños que no sean inferiores a  
18D  
190

23 **Día Internacional de la educación**  
¿Cuál es su amigo del 1?  
0,46

24 A qué número llegamos si patimos del...  
600  
⊖ | Δ — ⊖ |

25 Resta mentalmente  
568 - 398

26 **Día víctimas del holocausto**  
  
Suma mentalmente  
763 + 297

27 Escribe un problema de sumar con dinero en el que sea un sumando  
2,08 €

28 Calcula estos productos  
8D x 6  
8C x 64  
8D x 6D

29 ¿Cómo marcará un reloj analógico esta hora?

30 **Día Escolar de la Paz y NO Violencia**  
¿Cuántos litros son 2,5 L y 500 cl?

31 Escribe un número que tenga más decenas que este  
290

