

Nombre: _____

5º PRIMARIA

MARZO 2024

LUNES

MARTES

MIÉRCOLES

JUEVES

VIÉRNES

SÁBADO

DOMINGO

4 Escribe 4 números entre estos
0.9d 4d

5 ¿Cuántas veces esta 0.4 en el número 2.4?


6 llegamos si patimos del 1999
⊖ ⊖ ⊖ ⊖ — △ —

7 Redondea a la UM más próxima.
9292

8 Día Internacional de la mujer
Escribe en romanos
444

9 Escribe el número de UMM y la cifra de las UMM
90 874 012

10 Expresa como fracción cada una de las dos partes.



11 Día víctimas del terrorismo
Iguala estas cantides 1,01 y 9,09




12 Inventa un problema de dividir en el que sea el divisor.
0,7

13 ¿Calcula mentalmente?
44,76 + 18,34

14 ¿Que número falta para que sean equivalentes?
 $\frac{6}{12}$ $\frac{?}{4}$

15 Día Derechos del consumidor
Descompón para tener decenas y décimas.
1




16 Inventa una serie de 10 números que de una a otra aumente.
0,3

17 ¿Cuántos cuartos de kilo hay?
2,4 kilos

18 $0,1$
Descompón de 4 formas



19 Día del Padre
¿Cuál es su doble?
0,37




20 Si tienes 378 caramelos y cada uno pesa 2g ¿Cuánto pesan todos?

21 Día del Síndrome de Dawn
¿Qué está mal?
MMDDXII



22 Día Mundial del Agua
Calcula el triple, y el cuadruple
4,5



23 Calcula mentalmente
 $0,255 \times 4$

24 A qué número llegamos desde 1001
△ △ ⊖ ⊖ ⊖

25 Día contra la trata de seres humanos
Calcula Mentalmente
 $6 \times 8,5$



26 Día del teatro
Calcula Mentalmente
5,6:
7



27 ¿Qué hora es?



28 ¿Cuánto queda si a 2,3C le quitas?
3D

29 ¿Si tienes ahorrado 23,72 € cuanto te falta para...?
62,15€

30 Calcula mentalmente
 $36,4 \times 10 =$
 $36,4 \times 5 =$
 $36,4 \times 20 =$
 $36,4 \times 0,5 =$

31 Ordena de < a >
 $\frac{5}{3}$ $\frac{5}{8}$ $\frac{5}{5}$