

MAYO 2024

5º PRIMARIA

* Otras celebraciones en ese día:
15.- Día Internacional de la objeción de conciencia

LUNES MARTES

MIERCOLES

JUEVES

VIERNES

SABADO

DOMINGO

1 Día Mundial del trabajador/a

Calcula mentalmente



2 Escribe el nombre y redondea las centésimas.

0.745

3 Día mundial de la libertad de prensa
¿Cuál es su mitad?

9.2 c



4 Calcula
 $5 \times 4 - 18 : 3$

$(11 + 9) - 36 : 4$

5 Día de la madre
Calcula mentalmente

5.21×6



8 Día Mundial del de la Cruz Roja y de la Media Luna
Calcula

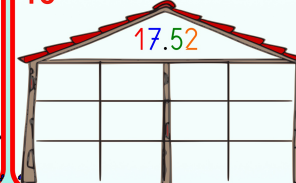
$+ 5 - \frac{1}{6}$

9 Día de Europa
Calcula la suma y simplifica

$\frac{4}{2} \frac{3}{9} \frac{2}{6}$



10 Haz 4 descomposiciones



11 Expresa de forma incompleja la siguiente cantidad sexagesimal

$9^\circ 25' 12''$

12 Inventa un problema para esta expresión.

$3(15 - 9)$

6 Escribe la operación con n° enteros "Tienes 20€, te ganas 8€, gastas 12€ y pierdes 5€"

7 Cuál será el resultado si multiplicas por: 0.6, 0,06 y 0.006

9

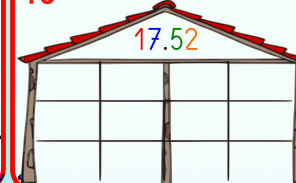
8 Día Mundial del de la Cruz Roja y de la Media Luna
Calcula

$+ 5 - \frac{1}{6}$

9 Día de Europa
Calcula la suma y simplifica

$\frac{4}{2} \frac{3}{9} \frac{2}{6}$

10 Haz 4 descomposiciones



11 Expresa de forma incompleja la siguiente cantidad sexagesimal

$9^\circ 25' 12''$

12 Inventa un problema para esta expresión.

$3(15 - 9)$

13 ¿Cuántos cm² hay en?
 $4m^2$ y $18dm^2$

14 Escribe 4 números entre estos dos
0.25 y 0.26

15 Día Internacional de la familia
Sumale 7.6 y 4.4

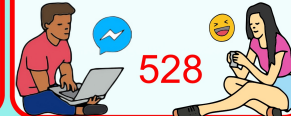
2.52



16 Completa para que sean equivalentes

$\frac{3}{7} = \frac{?}{21}$

17 Día de Internet
¿Cuál es el 21%?



18 Escribe en números romanos
6576

19 Escribe una fracción equivalente mayor y otra menor.

$\frac{3}{9}$

20 Si el precio incluye el 21% de IVA ¿Cuánto es el IVA?
631€

21 Diversidad Cultural
¿Qué número es?
0.3d 4.2c 0.8m



22 Día Internacional biodiversidad biológica
¿Cuántos grados son?

300' 3600"



23 Desde 0.742 ¿Cuánto falta para llegar al número?

0.8

24 La provincia de Granada tiene 1253100 hectáreas ¿Cuántas km² son?

25 Día Internacional
30.25 ¿Cuál es su raíz cuadrada?



26 Con la ayuda de la tabla calcula el 74% de
120

27 Atrasa 2 horas y 15 minutos



28 Día Mundial de la nutrición
Suma mentalmente
2.15 21.15
6.13



29 Día Mundial sin tabaco
¿Cuál mentalmente?
27.4 : 2



30 ¿Cuánto mide el ángulo suplementario a éste?
58°

31 ¿Cuánto mide el ángulo complementario a éste?
45°

