

OCTUBRE 2025

NOMBRE: _____

20 PRIMARIA

LUNES

MARTES

MIÉRCOLES

JUEVES


VIERNES

SÁBADO

DOMINGO

1 Día Internacional de las personas de la Tercera Edad
¿Qué número es?

3D y 28U



2 Día Mundial del hábitat
¿Cuál es el amigo del 100 en...?

65



3

58



Descompón de 4 formas distintas.

4 Día Mundial de los animales
Añade 4D y 24U a

12



5 Día Mundial de los docentes
Escribe la mitad de

42



6 Completa los números en la tabla del 100

?	?	?
?	64	?
?	?	?

7 Indica la decena anterior y posterior

47

8 Escribe dos números que estén entre


64 y 46

9 ¿Cuántas decenas hay? ¿Y unidades?

86

10 Día Mundial contra la pena de muerte
Continúa la serie:


43, 41, 39, ...
... 19



11 Si tienes 3 D y añades 45 U.
¿Cuánto habrá?

12 Día de la Hispanidad
Suma mentalmente

37 + 23



13 Día Mundial de la visión
Escribe cuatro números pares mayores y menores a:

75

14 Inventa un problema de sumar en el que sea el resultado


28

15 Calcula el resultado

8D - 35U


16 Día Mundial de la alimentación
Escribe el ordinal de estos números.

1º 10º 6º



17 Día Mundial para la erradicación de la pobreza
Escribe el doble de

16



18 Inventa un problema de sumar y otro de restar con estos datos

20 50 30

19 Si tengo ahorrado 4,60 €
¿Cuánto me falta para tener 10€?

20 Indica dos cosas que midan más de 2 metros y otras dos de menos de 2 metros

21 Escribe el minuendo y el sustraendo para que sea la solución.


4

22 Dibuja un círculo y cuenta todo lo que sepas de él.

23 Si tienes estas centenas ¿y quitas 80 Unidades.
¿Cuánto quedará?

1 C

24 Día Internacional de la Biblioteca
¿Qué meses son los tres primeros del año?



25 A qué número llegamos si partimos del

12

○ ○ ○ ||| ○ —

26 ¿De qué tipo y cuántas monedas de céntimos hay en esta cantidad?

70,51 €

27 A qué número llegamos si partimos del

40

⊖ ⊖ || ○ — |

28 Un lápiz cuesta 20 céntimos.
¿Cuánto cuestan 2?
¿y 4? ¿y 8?

29 Iguala estas cantidades

45 y 59

30 Completa los números en la tabla del 100

		?
	44	
?		?

31 ¿Qué hora es?

