

OCTUBRE 2025

NOMBRE: _____

MIÉRCOLES

JUEVES

VIERNES

SÁBADO

DOMINGO

30

PRIMARIA

igual las cantidades

LUNES


MARTES

1 Día Internacional de las personas de la Tercera Edad
¿Cuál es el número de D y la cifra de D?



1418

2 Día Mundial del hábitat
Inventa un problema de multiplicar con este número.



346

3 Descompón de 2 formas y que tenga D y U

5000

4 Día Mundial de los animales
¿Cuál es su amigo del 1000?



672

5 Día Mundial de los docentes
Suma 15D y 18U



140

6 Escribe 4 números con centenas pares anteriores y posteriores.

4062

7 Escribe en número y letra todos los números de 4 cifras.

5 3 7 2

8 A qué número llegamos si partimos del

5215

△ - △ ○ ⊖

9 Redondea a las C y a las D

3262

10 Día Mundial contra la pena de muerte
Quita 43C y 52D




6821

11 Escribe cómo se lee el número anterior y posterior.

6899

12 Día de la Hispanidad
¿Cuántos años hace desde el descubrimiento de América?



13 Día Mundial de la visión
Indica los lustros, décadas y siglos del año del descubrimiento de América

1492

14 ¿Cuántas monedas de 20 cts hay?

3,60 €

15 Suma mentalmente

147 606


457

16 Día Mundial de la alimentación
Escribe el doble



2354

17 Día Mundial para la erradicación de la pobreza
Escribe la mitad



2354

18 ¿Cuántos meses y días faltan, para el día de la Constitución?

19 Inventa un problema de sumar en el que este sea un dato

28,25 €

20 Inventa un problema de sumaresta en el que sea un sumando.

84

21 Escribe el minuendo y el sustraendo para que sea la solución.

47

22 Haz la casita con 4 descomposiciones




345

23 Añade 12C y 25D

109

24 Día Internacional de la Biblioteca
Continúa la serie:



36, 31, 26, 21...
... 1

25 Multiplica por 7

3
30
300

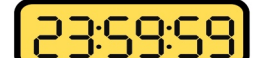
26 Inventa un problema en el que sea el dividendo

4,50

27 Inventa un problema de restar en el que sea la solución.

73,5 €

28 ¿Qué pasará este día un segundo más tarde que marca el reloj?



23:59:59

29 Inventa un problema de doble resta en el que el minuendo

96

30 ¿Cuál es el mínimo de billetes y monedas necesario?

246 €

31 Escribe la centena anterior y la decena posterior

373