

# OCTUBRE 2025

60  
PRIMARIA

MARTES

MIERCOLES


JUEVES

VIERNES

SABADO

1 Día Internacional de las personas de la Tercera Edad  
Escribe el número que tenga la mitad

63,84



2 Día Mundial del hábitat  
Escribe cómo se lee el número

67,105



3

¿Cuál es su doble?

0,753


4 Día Mundial de los animales  
Añade 23.4 d y 26 c

2,7



5 Día Mundial de los docentes  
Quita 23d y 126c

9



6

0,948




Descompon de 4 formas distintas.

7 Suma los siguientes números romanos y pon el resultado en números romanos

MDCXV + MCI

8 ¿A qué numero

4,987




9

¿Cuál es su amigo del 1 000 000?

453 170

10 Día Mundial contra la pena de muerte  
Añade 2.3d 6c y 1 m

0 01




11 Ordena de mayor a menor

$\frac{5}{10}$   $\frac{5}{3}$   $\frac{5}{5}$   $\frac{5}{15}$   $\frac{5}{1}$


12 Día de la Hispanidad  
Resta un tercio de esta cantidad

75,18



13 Día Mundial de la visión  
Calcula

18,12 + 32,17 - 23,28



14

¿Cuál es el tercio de...?

79,90


15

¿Cuál es su cuadrado?

8,5<sup>2</sup>


16 Día Mundial de la alimentación  
De 28c ¿Cuánto falta para llegar al número

0,91



17 Día Mundial para la erradicación de la pobreza  
¿Cuál es su triple?

25,07



18

Escribe el número de centésimas y la cifra de las centésimas

74.52

19

Escribe el amigo del 1, 10 y 100 del

0,4

20

Redondea a la U,d, c y m.

0,1728

21

Calcula por órdenes de magnitud

2DM 35C + 2UM 15U

22

Multiplica mentalmente por 3 y escribe el resultado

4,21


23

Inventa un problema de sumar en el que sea el resultado

0,78

24 Día Internacional de la Biblioteca  
Multiplíca por 3 0,3 y 0,03

8



25

¿Cuánto queda si rebajan un 12%?

4850

26

Calcula

38,76 - 12,28 - 17,48

27

Inventa un problema de dividir en el que sea el dividendo

5,24

28

Si fueran metros. ¿Cuánto faltaría para un Hm? ¿Y para el km?

75

29

¿Qué número falta para ser equivalentes

$\frac{?}{8} = \frac{2}{4}$

30

¿Cuánto serán las 4/8 partes del número?

1342

31

Calcula por órdenes de magnitud

26UM 25D - 6UM 2C