

Nombre: _____

DOMINGO

FEBRERO 2026

1º PRIMARIA

LUNES

MARTES

MIÉRCOLES

JUEVES

VIERNES

SÁBADO



2 Escribe en letra el número anterior y el posterior

Día de la Candelaria 

3 Inventa un problema de sumar para estos números

8 y 7

4 Del 0 al 10 ¿Qué números no están entre: 5 y 8

 Día Mundial contra el cancer 

5 Indica > < =

31 ○ 28

24 ○ 42


50 ○ 50

6 Escribe los números que estan entre estos dos

26 32

7 ¿Cuántas decenas hay?

¿Qué número es?



8 A qué número llegamos desde el...

13

|| ○ ||| —


9 

Descompón de 4 formas distintas.

10 Inventa un problema de restar con estos números.

5 y 8

11 Cuenta de 2 en del 11 al 25


 Día Mundial del cambio climático

12 Escribe un número cuya cifra de las decenas sea menor que las unidades mayor.

38

13 Escribe el doble de estos números

7 5 4

 Día de la radio

14 Escribe el ordinal


4º 8º 6º

 Día de la amistad San Valentín


15 ¿Cuánto dinero hay?




16 ¿Cuál es su mitad?

8 

17 Si tienes estas decenas y quitas 8 unidades. ¿Cuánto quedará?



18 Si pagas 7 euros ¿cuánto te devuelven?




19 ¿Qué números es?




20 Añade 2 D y 3 U

17


 Día de la Justicia social

21 ¿Qué número falta?

___ + 3 = 9

 Día de la Lengua Materna

22 Dibuja en tu cuaderno estas figuras y pon su nombre.



23 Escribe en tu cuaderno los amigos del 10

7

24 Escribe la decena anterior y posterior


55

25 A qué número llegamos si partimos del...

18

|||| — ○ — ○

26 ¿Qué hora es?



27 ¿Cuántas decenas hay aquí?

30 + 20 + 10

28 Escribe un problema de sumar en el que sea la solución.

6,50 €

