

Nombre: _____

DOMINGO

FEBRERO 2026

3º PRIMARIA

LUNES

MARTES

MIÉRCOLES

JUEVES

VIERNES

SÁBADO


2 Escribe un problema que tenga esta solución
30,30
Día de la Candelaria 

3 Tenemos 15 cintas de 60 cm de largo. ¿Cuántos metros de cinta son en total?

4 Escribe la centena anterior y posterior
328
Día Mundial contra el cancer 

5 A qué número llegamos si partimos de...
551
○○△—△△

6 
¿Cuánto suman las monedas de euro?

7 ¿Qué hora es?



8 Iguala con la cantidad del domingo pasado
436

9 Escribe en número y letra todos los que puedas formar con
4 5 6

10 ¿Cuál es su doble?
¿Y el triple?
321

11 Quita 59 decenas
718
Día Mundial del cambio climático 

12 Inventa un problema de restar.
6728 325

13 ¿Cuántos cuartos de kilo hay en esa cantidad?
5 Kg
Día de la radio 

14 Calcula mentalmente
573 + 397
Día de la amistad San Valentín 


15 Inventa un problema de dividir en el que este sea el resultado
2,10

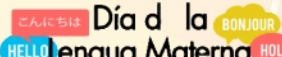
16 ¿Cuál es su mitad?
622


17 
Haz la casita con 4 descomposiciones

18 Número de decenas y cifra de las decenas
457

19 Escribe un problema de sumirresta que tenga esta solución
62

20 ¿Cuál es su amigo del 10?
4,60
Día de la Justicia social 

21 Escribe un número cuya cifra de las decenas sea mayor
557
Día de la Lengua Materna 

22 A qué número llegamos si partimos de...
692
○||△—△||

23 ¿Cuál será el resultado si multiplicas por 5, 50, 500 y 0,5
12

24 Escribe como se lee este número. ¿Y si fuese dinero?
7,8

25 ¿Qué número es?
MMXIV

26 Añade 2C 31D y 105U
12D 30U

27 ¿Cuál es su amigo del 1000?
635

28 Número de decenas y cifra de las decenas
276

